



绝密★启用前

第 I 卷 (选择题)

请点击修改第 I 卷的文字说明

一、单选题

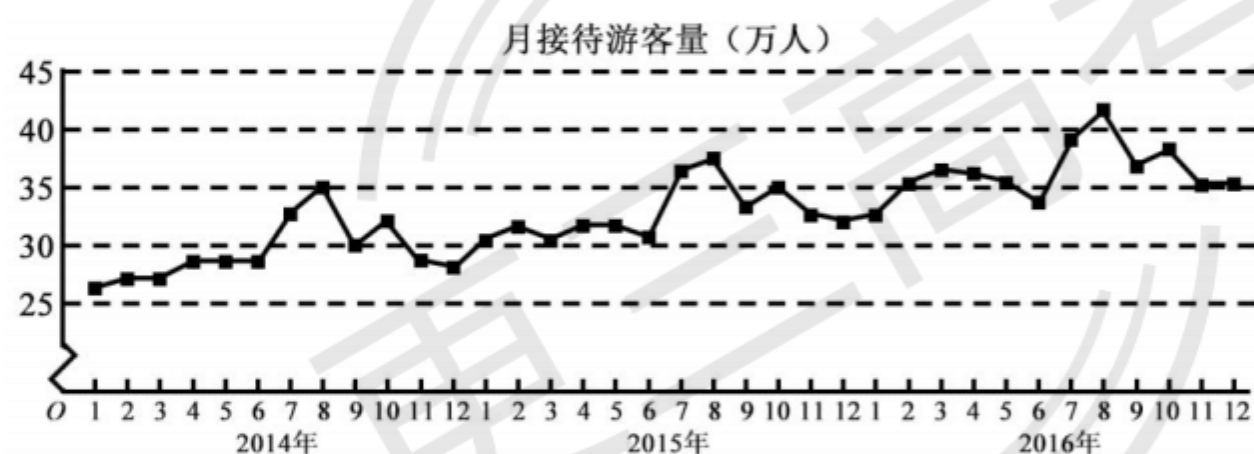
1. 已知集合 $A = \{(x, y) \mid x^2 + y^2 = 1\}$, $B = \{(x, y) \mid y = x\}$, 则 $A \cap B$ 中元素的个数为

A. 3 B. 2 C. 1 D. 0

2. 设复数 z 满足 $(1+i)z=2i$, 则 $|z| =$

A. $\frac{1}{2}$ B. $\frac{\sqrt{2}}{2}$ C. $\sqrt{2}$ D. 2

3. 某城市为了解游客人数的变化规律, 提高旅游服务质量, 收集并整理了 2014 年 1 月至 2016 年 12 月期间月接待游客量 (单位: 万人) 的数据, 绘制了下面的折线图.



根据该折线图, 下列结论错误的是

- A. 月接待游客量逐月增加
- B. 年接待游客量逐年增加
- C. 各年的月接待游客量高峰期大致在 7,8 月份
- D. 各年 1 月至 6 月的月接待游客量相对 7 月至 12 月, 波动性更小, 变化比较平稳

4. $(x+y)(2^x - y)^5$ 的展开式中 $x^3 y^3$ 的系数为

A. -80 B. -40 C. 40 D. 80

5. 已知双曲线 $C: \frac{x^2}{a^2} - \frac{y^2}{b^2} = 1$ ($a > 0, b > 0$) 的一条渐近线方程为 $y = \frac{\sqrt{5}}{2}x$, 且与椭圆

$\frac{x^2}{12} + \frac{y^2}{3} = 1$ 有公共焦点, 则 C 的方程为

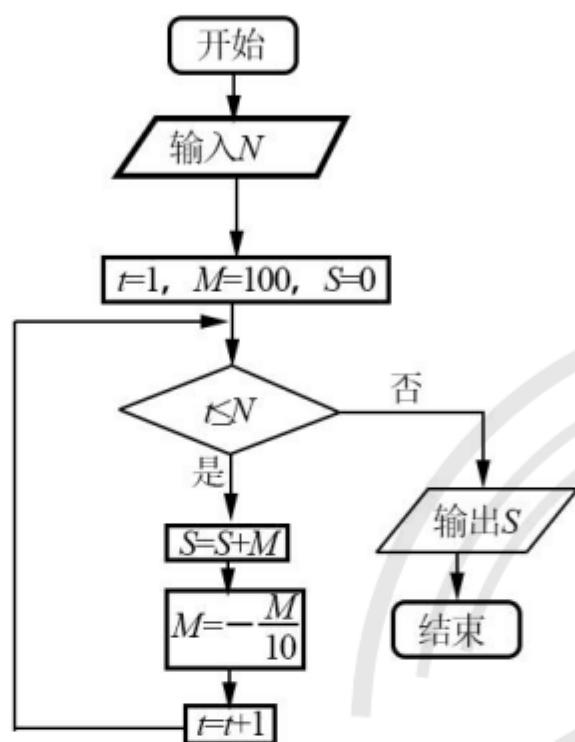


A. $\frac{x^2}{8} - \frac{y^2}{10} = 1$ B. $\frac{x^2}{4} - \frac{y^2}{5} = 1$ C. $\frac{x^2}{5} - \frac{y^2}{4} = 1$ D. $\frac{x^2}{4} - \frac{y^2}{3} = 1$

6. 设函数 $f(x) = \cos(x + \frac{\pi}{3})$, 则下列结论错误的是

- A. $f(x)$ 的一个周期为 -2π B. $y=f(x)$ 的图像关于直线 $x = \frac{8\pi}{3}$ 对称
C. $f(x+\pi)$ 的一个零点为 $x = \frac{\pi}{6}$ D. $f(x)$ 在 $(\frac{\pi}{2}, \pi)$ 单调递减

7. 执行下面的程序框图, 为使输出 S 的值小于 91, 则输入的正整数 N 的最小值为



- A. 5 B. 4 C. 3 D. 2

8. 已知圆柱的高为 1, 它的两个底面的圆周在直径为 2 的同一个球的球面上, 则该圆柱的体积为

- A. π B. $\frac{3\pi}{4}$ C. $\frac{\pi}{2}$ D. $\frac{\pi}{4}$

9. 等差数列 $\{a_n\}$ 的首项为 1, 公差不为 0. 若 a_2, a_3, a_6 成等比数列, 则 $\{a_n\}$ 前 6 项的和为

- A. -24 B. -3 C. 3 D. 8

10. 已知椭圆 $C: \frac{x^2}{a^2} + \frac{y^2}{b^2} = 1, (a > b > 0)$ 的左、右顶点分别为 A_1, A_2 , 且以线段 A_1A_2 为

直径的圆与直线 $bx - ay + 2ab = 0$ 相切, 则 C 的离心率为

- A. $\frac{\sqrt{6}}{3}$ B. $\frac{\sqrt{3}}{3}$ C. $\frac{\sqrt{2}}{3}$ D. $\frac{1}{3}$

11. 已知函数 $f(x) = x^2 - 2x + a(e^{x-1} + e^{-x+1})$ 有唯一零点, 则 $a =$



- A. $-\frac{1}{2}$ B. $\frac{1}{3}$ C. $\frac{1}{2}$ D. 1

12. 在矩形 ABCD 中, $AB=1, AD=2$, 动点 P 在以点 C 为圆心且与 BD 相切的圆上. 若 $\overrightarrow{AP} = \lambda \overrightarrow{AB} + \mu \overrightarrow{AD}$, 则 $\lambda + \mu$ 的最大值为

- A. 3 B. $2\sqrt{2}$ C. $\sqrt{5}$ D. 2

第 II 卷 (非选择题)

请点击修改第 II 卷的文字说明

二、填空题

13. 若 x, y 满足约束条件 $\begin{cases} x - y \geq 0 \\ x + y - 2 \leq 0 \\ y \geq 0 \end{cases}$, 则 $z = 3x - 4y$ 的最小值为_____.

14. 设等比数列 $\{a_n\}$ 满足 $a_1 + a_2 = -1, a_1 - a_3 = -3$, 则 $a_4 =$ _____.

15. 设函数 $f(x) = \begin{cases} x+1, & x \leq 0, \\ 2^x, & x > 0, \end{cases}$ 则满足 $f(x) + f(x - \frac{1}{2}) > 1$ 的 x 的取值范围是_____.

16. a, b 为空间中两条互相垂直的直线, 等腰直角三角形 ABC 的直角边 AC 所在直线与 a, b 都垂直, 斜边 AB 以直线 AC 为旋转轴旋转, 有下列结论:

- ①当直线 AB 与 a 成 60° 角时, AB 与 b 成 30° 角;
- ②当直线 AB 与 a 成 60° 角时, AB 与 b 成 60° 角;
- ③直线 AB 与 a 所称角的最小值为 45° ;
- ④直线 AB 与 a 所称角的最小值为 60° ;

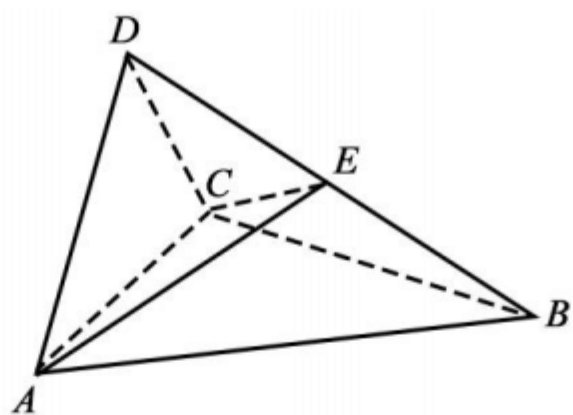
其中正确的是_____。(填写所有正确结论的编号)

17. (12 分) $\triangle ABC$ 的内角 A, B, C 的对边分别为 a, b, c , 已知 $\sin A + \sqrt{3} \cos A = 0, a = 2\sqrt{7}, b = 2$.

(1) 求 c ;

(2) 设 D 为 BC 边上一点, 且 $AD \perp AC$, 求 $\triangle ABD$ 的面积.

18. (12 分) 如图, 四面体 ABCD 中, $\triangle ABC$ 是正三角形, $\triangle ACD$ 是直角三角形, $\angle ABD = \angle CBD, AB = BD$.



- (1) 证明：平面 $ACD \perp$ 平面 ABC ；
- (2) 过 AC 的平面交 BD 于点 E ，若平面 AEC 把四面体 $ABCD$ 分成体积相等的两部分，求二面角 $D-AE-C$ 的余弦值.

19. (12分)

已知抛物线 $C: y^2=2x$ ，过点 $(2,0)$ 的直线 l 交 C 与 A, B 两点，圆 M 是以线段 AB 为直径的圆.

- (1) 证明：坐标原点 O 在圆 M 上；
- (2) 设圆 M 过点 $P(4, -2)$ ，求直线 l 与圆 M 的方程.

三、解答题

20. (12分) 某超市计划按月订购一种酸奶，每天进货量相同，进货成本每瓶 4 元，售价每瓶 6 元，未售出的酸奶降价处理，以每瓶 2 元的价格当天全部处理完. 根据往年销售经验，每天需求量与当天最高气温 (单位: $^{\circ}\text{C}$) 有关. 如果最高气温不低于 25，需求量为 500 瓶；如果最高气温位于区间 $[20, 25)$ ，需求量为 300 瓶；如果最高气温低于 20，需求量为 200 瓶. 为了确定六月份的订购计划，统计了前三年六月份各天的最高气温数据，得下面的频数分布表:

最高气温	$[10, 15)$	$[15, 20)$	$[20, 25)$	$[25, 30)$	$[30, 35)$	$[35, 40)$
天数	2	16	36	25	7	4

以最高气温位于各区间的频率代替最高气温位于该区间的概率.

- (1) 求六月份这种酸奶一天的需求量 X (单位: 瓶) 的分布列；
- (2) 设六月份一天销售这种酸奶的利润为 Y (单位: 元)，当六月份这种酸奶一天的进货量 n (单位: 瓶) 为多少时， Y 的数学期望达到最大值？

21. (12分)

已知函数 $f(x) = x - 1 - a \ln x$.

- (1) 若 $f(x) \geq 0$ ，求 a 的值；



(2) 设 m 为整数, 且对于任意正整数 n , $(1+\frac{1}{2})(1+\frac{1}{2^2})\dots(1+\frac{1}{2^n}) < m$, 求 m 的最小值.

22. [选修 4-4: 坐标系与参数方程] (10 分)

在直角坐标系 xOy 中, 直线 l_1 的参数方程为 $\begin{cases} x=2+t, \\ y=kt, \end{cases}$ (t 为参数), 直线 l_2 的参数方程为

$\begin{cases} x=-2+m, \\ y=\frac{m}{k}, \end{cases}$ (m 为参数). 设 l_1 与 l_2 的交点为 P , 当 k 变化时, P 的轨迹为曲线 C .

(1) 写出 C 的普通方程;

(2) 以坐标原点为极点, x 轴正半轴为极轴建立极坐标系, 设 $l_3: \rho(\cos\theta+\sin\theta)-\sqrt{2}=0$, M 为 l_3 与 C 的交点, 求 M 的极径.

23. [选修 4-5: 不等式选讲] (10 分)

已知函数 $f(x) = |x+1| - |x-2|$.

(1) 求不等式 $f(x) \geq 1$ 的解集;

(2) 若不等式 $f(x) \geq x^2 - x + m$ 的解集非空, 求 m 的取值范围.

1. B

【解析】由题意可得: 圆 $x^2 + y^2 = 1$ 与直线 $y = x$ 相交于两点 $(1, 1)$, $(-1, -1)$, 则 $A \cap B$

中有两个元素.

本题选择 B 选项.

2. C



【解析】由题意可得： $z = \frac{2i}{1+i}$ ， $\therefore |z| = \frac{|2i|}{|1+i|} = \frac{2}{\sqrt{2}} = \sqrt{2}$.

本题选择 C 选项.

3. A

【解析】由折线图，7 月份后月接待游客量减少，A 错误；

本题选择 A 选项.

4. C

【解析】由 $(2x-y)^5$ 展开式的通项公式： $T_{r+1} = C_5^r (2x)^{5-r} (-y)^r$ 可得：

当 $r=3$ 时， $x(2x-y)^5$ 展开式中 x^3y^3 的系数为 $C_5^3 \times 2^2 \times (-1)^3 = -40$

当 $r=2$ 时， $y(2x-y)^5$ 展开式中 x^3y^3 的系数为 $C_5^2 \times 2^3 \times (-1)^2 = 80$ ，

则 x^3y^3 的系数为 $80 - 40 = 40$.

本题选择 C 选项.

5. B

【解析】由题意可得： $\frac{b}{a} = \frac{\sqrt{3}}{2}$ ， $c=3$ ，又 $a^2 + b^2 = c^2$ ，解得 $a^2 = 4$ ， $b^2 = 5$ ，

则 C 的方程为 $\frac{x^2}{4} - \frac{y^2}{5} = 1$.

本题选择 B 选项.

6. D

【解析】当 $x \in \left(\frac{\pi}{2}, \pi\right)$ 时， $x + \frac{\pi}{3} \in \left(\frac{5\pi}{6}, \frac{4\pi}{3}\right)$ ，函数在该区间内不单调.

本题选择 D 选项.

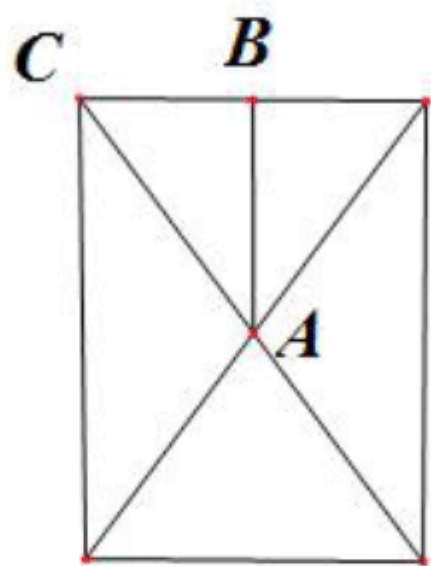
7. D



【解析】若 $N=2$, 第一次进入循环, $1 \leq 2$ 成立, $S=100, M=-\frac{100}{10}=-10, i=2 \leq 2$ 成立, 第二次进入循环, 此时 $S=100-10=90, M=-\frac{-10}{10}=1, i=3 \leq 2$ 不成立, 所以输出 $S=90 < 91$ 成立, 所以输入的正整数 N 的最小值是 2, 故选 D.

8. B

【解析】【解析】如果, 画出圆柱的轴截面



$AC=1, AB=\frac{1}{2}$, 所以 $r=BC=\frac{\sqrt{3}}{2}$, 那么圆柱的体积是

$$V = \pi r^2 h = \pi \times \left(\frac{\sqrt{3}}{2}\right)^2 \times 1 = \frac{3}{4}\pi, \text{ 故选 B.}$$

9. A

【解析】】设等差数列的公差为 $d \neq 0$, $a_3^2 = a_2 \cdot a_6 \Rightarrow (1+2d)^2 = (1+d)(1+5d)$, $d^2 = -2d, (d \neq 0)$, 所以 $d = -2$, $S_6 = 6 \times 1 + \frac{6 \times 5}{2} \times (-2) = -24$, 故选 A.

10. A

【解析】以线段 A_1A_2 为直径的圆是 $x^2 + y^2 = a^2$, 直线 $bx - ay + 2ab = 0$ 与圆相切, 所以

圆心到直线的距离 $d = \frac{2ab}{\sqrt{a^2 + b^2}} = a$, 整理为 $a^2 = 3b^2$, 即 $a^2 = 3(a^2 - c^2) \Rightarrow 2a^2 = 3c^2$,

即 $\frac{c^2}{a^2} = \frac{2}{3}$, $e = \frac{c}{a} = \frac{\sqrt{6}}{3}$, 故选 A.

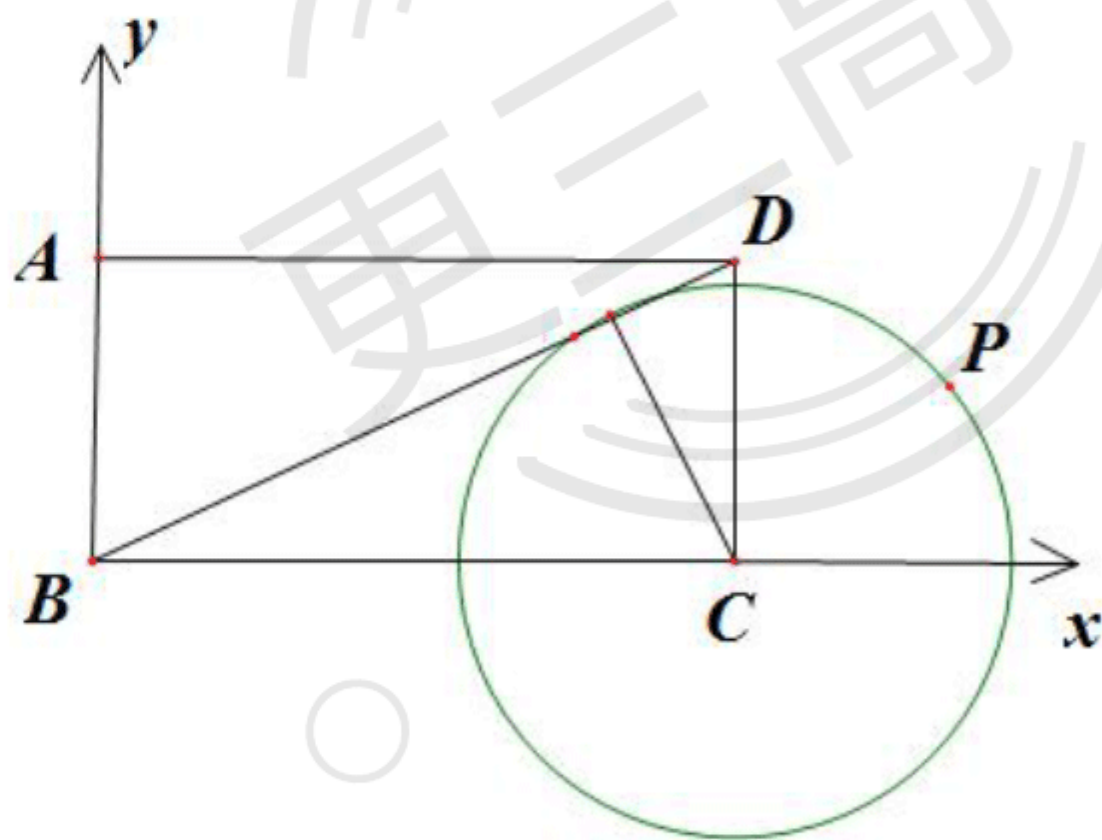


11. C

【解析】【解析】 $x^2 - 2x = -a(e^{x-1} + e^{-x+1})$ ，设 $g(x) = e^{x-1} + e^{-x+1}$ ，
 $g'(x) = e^{x-1} - e^{-x+1} = e^{x-1} - \frac{1}{e^{x-1}} = \frac{e^{2(x-1)} - 1}{e^{x-1}}$ ，当 $g'(x) = 0$ 时， $x = 1$ ，当 $x < 1$ 时，
 $g'(x) < 0$ 函数单调递减，当 $x > 1$ 时， $g'(x) > 0$ ，函数单调递增，当 $x = 1$ 时，函数取得
 最小值 $g(1) = 2$ ，设 $h(x) = x^2 - 2x$ ，当 $x = 1$ 时，函数取得最小值 -1，若 $-a > 0$ ，函数
 $h(x)$ ，和 $ag(x)$ 没有交点，当 $-a < 0$ 时， $-ag(1) = h(1)$ 时，此时函数 $h(x)$ 和 $ag(x)$ 有
 一个交点，即 $-a \times 2 = -1 \Rightarrow a = \frac{1}{2}$ ，故选 C.

12. A

【解析】如图，建立平面直角坐标系



设 $A(0,1), B(0,0), D(2,1), P(x,y)$

根据等面积公式可得圆的半径是 $\frac{2}{\sqrt{5}}$ ，即圆的方程是 $(x-2)^2 + y^2 = \frac{4}{5}$

$\overline{AP} = (x, y-1), \overline{AB} = (0, -1), \overline{AD} = (2, 0)$ ，若满足 $\overline{AP} = \lambda \overline{AB} + \mu \overline{AD}$



即 $\begin{cases} x = 2\mu \\ y - 1 = -\lambda \end{cases}$, $\mu = \frac{x}{2}, \lambda = 1 - y$, 所以 $\lambda + \mu = \frac{x}{2} - y + 1$, 设 $z = \frac{x}{2} - y + 1$, 即

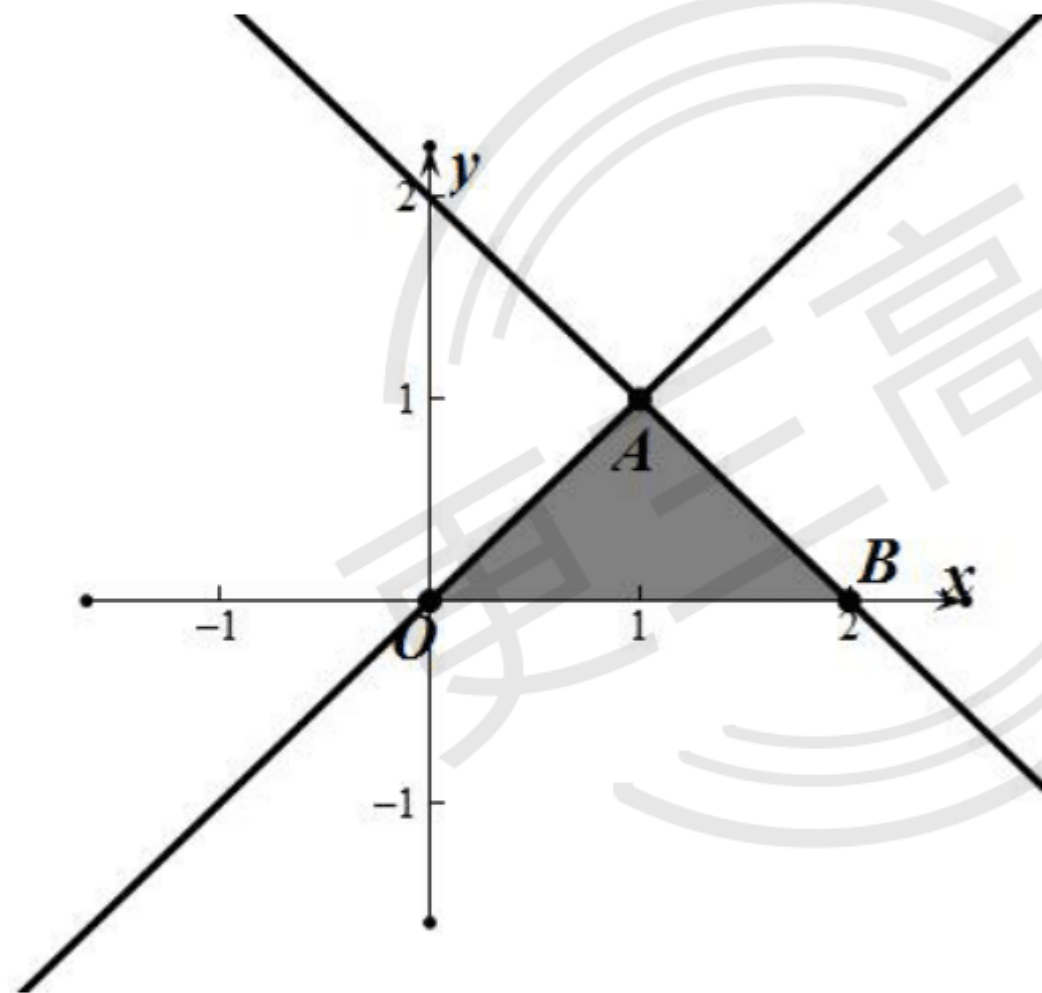
$\frac{x}{2} - y + 1 - z = 0$, 点 $P(x, y)$ 在圆 $(x - 2)^2 + y^2 = \frac{4}{5}$ 上, 所以圆心到直线的距离 $d \leq r$, 即

$$\frac{|2 - z|}{\sqrt{\frac{1}{4} + 1}} \leq \frac{2}{\sqrt{5}}, \text{ 解得 } 1 \leq z \leq 3, \text{ 所以 } z \text{ 的最大值是 } 3, \text{ 即 } \lambda + \mu \text{ 的最大值是 } 3, \text{ 故选 A.}$$

13. -1

【解析】绘制不等式组表示的可行域, 结合目标函数的几何意义可得, 目标函数在点 $A(1, 1)$

处取得最小值 $z = 3x - 4y = -1$.



14. -8

【解析】由题意可得: $\begin{cases} a_1(1+q) = -1 \\ a_1(1-q^2) = -3 \end{cases}$, 解得: $\begin{cases} a_1 = 1 \\ q = -2 \end{cases}$, 则 $a_4 = a_1 q^3 = -8$

15. $x > -\frac{1}{4}$



【解析】由题意： $g(x) = f(x) + f\left(x - \frac{1}{2}\right) = \begin{cases} 2x + \frac{3}{2}, x \leq 0 \\ 2^x + x + \frac{1}{2}, 0 < x \leq \frac{1}{2} \\ (\sqrt{2} + 1)2^{x-1}, x > \frac{1}{2} \end{cases}$ ，函数 $g(x)$ 在区

间 $(-\infty, 0], \left(0, \frac{1}{2}\right], \left(\frac{1}{2}, +\infty\right)$ 三段区间内均单调递增，且：

$$g\left(-\frac{1}{4}\right) = 1, 2^0 + 0 + \frac{1}{2} > 1, (\sqrt{2} + 1) \times 2^{0-1} > 1,$$

据此 x 的取值范围是： $\left(-\frac{1}{4}, +\infty\right)$ 。

16. ②③

【解析】由题意， AB 是以 AC 为轴， BC 为底面半径的圆锥的母线，由 $AC \perp a, AC \perp b$ ，又 $AC \perp$ 圆锥底面，在底面内可以过点 B ，作 $BD \parallel a$ ，交底面圆 C 于点 D ，如图所示，连结 DE ，则 $DE \perp BD$ ， $\therefore DE \parallel b$ ，连结 AD ，等腰 $\triangle ABD$ 中， $AB = AD = \sqrt{2}$ ，当直线 AB 与 a 成 60° 角时， $\angle ABD = 60^\circ$ ，故 $BD = \sqrt{2}$ ，又在 $Rt\triangle BDE$ 中， $BE = 2, \therefore DE = \sqrt{2}$ ，

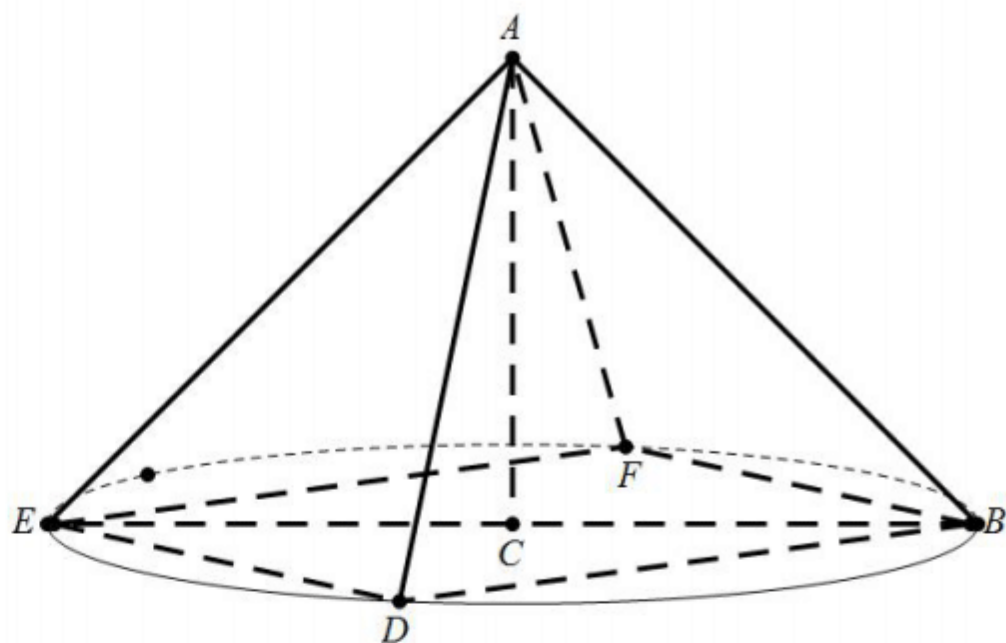
过点 B 作 $BF \parallel DE$ ，交圆 C 于点 F ，连结 AF ，由圆的对称性可知 $BF = DE = \sqrt{2}$ ，

$\therefore \triangle ABF$ 为等边三角形， $\therefore \angle ABF = 60^\circ$ ，即 AB 与 b 成 60° 角，②正确，①错误。

由最小角定理可知③正确；

很明显，可以满足平面 $ABC \perp$ 直线 a ，直线 AB 与 a 所成的最大角为 90° ，④错误。

正确的说法为②③。



17.

(1) $c=4$

(2) $\sqrt{3}$

【解析】

(1) 由已知得 $\tan A = -\sqrt{3}$, 所以 $A = \frac{2\pi}{3}$

在 $\triangle ABC$ 中, 由余弦定理得

$$28 = 4 + c^2 - 4c \cos \frac{2\pi}{3}, \text{ 即 } c^2 + 2c - 24 = 0$$

解得 $c = -6$ (舍去), $c = 4$

(2) 有题设可得 $\angle CAD = \frac{\pi}{2}$, 所以 $\angle BAD = \angle BAC - \angle CAD = \frac{\pi}{6}$

故 $\triangle ABD$ 面积与 $\triangle ACD$ 面积的比值为 $\frac{\frac{1}{2} AB \cdot AD \cdot \sin \frac{\pi}{6}}{\frac{1}{2} AC \cdot AD} = 1$

又 $\triangle ABC$ 的面积为 $\frac{1}{2} \times 4 \times 2 \sin \angle BAC = 2\sqrt{3}$, 所以 $\triangle ABD$ 的面积为 $\sqrt{3}$.



18.

(1) 见解析

(2) 二面角 $D-AE-C$ 的余弦值为 $\frac{\sqrt{2}}{4}$.

【解析】

(1) 由题设可得, $\triangle ABD \cong \triangle CBD$, 从而 $AD = DC$

又 $\triangle ACD$ 是直角三角形, 所以 $\angle ACD = 90^\circ$

取 AC 的中点 O , 连接 DO, BO , 则 $DO \perp AC, DO = AO$

又由于 $\triangle ABC$ 是正三角形, 故 $BO \perp AC$

所以 $\angle DOB$ 为二面角 $D-AC-B$ 的平面角

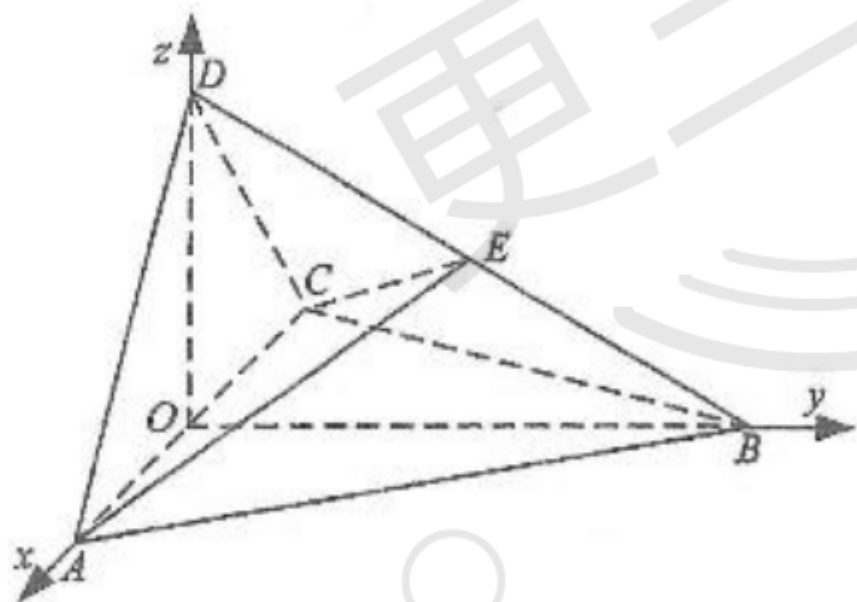
在 $Rt\triangle AOB$ 中, $BO^2 + AO^2 = AB^2$

又 $AB = BD$, 所以

$BO^2 + DO^2 = BO^2 + AO^2 = AB^2 = BD^2$, 故 $\angle DOB = 90^\circ$

所以平面 $ACD \perp$ 平面 ABC

(2)



由题设及(1)知, OA, OB, OD 两两垂直, 以 O 为坐标原点, \overrightarrow{OA} 的方向为 x 轴正方向, $|\overrightarrow{OA}|$

为单位长, 建立如图所示的空间直角坐标系 $O-xyz$, 则

$A(1,0,0), B(0,\sqrt{3},0), C(-1,0,0), D(0,0,1)$

由题设知, 四面体 $ABCE$ 的体积为四面体 $ABCD$ 的体积的 $\frac{1}{2}$, 从而 E 到平面 ABC 的距离



为 D 到平面 ABC 的距离的 $\frac{1}{2}$, 即 E 为 DB 的中点, 得 $E\left(0, \frac{\sqrt{3}}{2}, \frac{1}{2}\right)$. 故

$$\overrightarrow{AD} = (-1, 0, 1), \overrightarrow{AC} = (-2, 0, 0), \overrightarrow{AE} = \left(-1, \frac{\sqrt{3}}{2}, \frac{1}{2}\right)$$

设 $\mathbf{n} = (x, y, z)$ 是平面 DAE 的法向量, 则 $\begin{cases} \mathbf{n} \cdot \overrightarrow{AD} = 0, \\ \mathbf{n} \cdot \overrightarrow{AE} = 0, \end{cases}$ 即 $\begin{cases} -x + z = 0 \\ -x + \frac{\sqrt{3}}{2}y + \frac{1}{2}z = 0 \end{cases}$

$$\text{可取 } \mathbf{n} = \left(1, \frac{\sqrt{3}}{3}, 1\right)$$

设 \mathbf{m} 是平面 AEC 的法向量, 则 $\begin{cases} \mathbf{m} \cdot \overrightarrow{AC} = 0, \\ \mathbf{m} \cdot \overrightarrow{AE} = 0, \end{cases}$ 同理可得 $\mathbf{m} = (0, -1, \sqrt{3})$

$$\text{则 } \cos \langle \mathbf{n}, \mathbf{m} \rangle = \frac{\mathbf{n} \cdot \mathbf{m}}{|\mathbf{n}| |\mathbf{m}|} = \frac{\sqrt{7}}{7}$$

所以二面角 D-AE-C 的余弦值为 $\frac{\sqrt{7}}{7}$

19.

(1) 证明: ①当 $AB \perp x$ 轴时, $x=2$ 代入 $y^2=2x$ 得 $y=\pm 2$

$\therefore O$ 在以 AB 为直径的圆上. 此时圆半径为 2.

②当 AB 不垂直于 x 轴时, 设 AB 的方程为 $y=k(x-2)$ 且 $A(x_1, y_1), B(x_2, y_2)$,

$$\text{由 } \begin{cases} y^2 = 2x \\ y = k(x-2) \end{cases} \text{ 消去 } y \text{ 整理 } kx^2 - (4k^2 + 2)x + 4k^2 = 0$$

$$\therefore \begin{cases} x_1 + x_2 = \frac{4k^2 + 2}{k^2} \\ x_1 x_2 = 4 \end{cases}, \quad y_1 + y_2 = k(x_1 + x_2 - 4) = \frac{2}{k}, \quad y_1 y_2 = k(x_1 - 2)(x_2 - 2) = -4$$

从而 $k_{OA} \cdot k_{OB} = \frac{y_1 y_2}{x_1 x_2} = -1$, $OA \perp OB$, O 在以 AB 为直径的圆上.

(2) 由 (1) 知以 AB 为直径的圆的方程为 $(x-x_1)(x-x_2) + (y-y_1)(y-y_2) = 0$



$$\text{即 } x^2 + y^2 - \frac{4k^2 + 2}{k^2}(x + y) = 0,$$

由于 $P(4, -2)$ 在此圆上,

$$\therefore \text{代入上述方程得 } k^2 = \frac{1}{3}, \text{ 故所求圆的方程为 } x^2 + y^2 - 10x - 10y = 0.$$

【解析】

(1) 设 $A(x_1, y_1), B(x_2, y_2), l: x = my + 2$

$$\text{由 } \begin{cases} x = my + 2 \\ y^2 = 2x \end{cases} \text{ 可得 } y^2 - 2my - 4 = 0, \text{ 则 } y_1 y_2 = -4$$

$$\text{又 } x_1 = \frac{y_1^2}{2}, x_2 = \frac{y_2^2}{2}, \text{ 故 } x_1 x_2 = \frac{(y_1 y_2)^2}{4} = 4$$

$$\text{因此 } OA \text{ 的斜率与 } OB \text{ 的斜率之积为 } \frac{y_1}{x_1} \cdot \frac{y_2}{x_2} = \frac{-4}{4} = -1$$

所以 $OA \perp OB$

故坐标原点 O 在圆 M 上.

$$(2) \text{ 由 (1) 可得 } y_1 + y_2 = 2m, x_1 + x_2 = m(y_1 + y_2) + 4 = 2m^2 + 4$$

$$\text{故圆心 } M \text{ 的坐标为 } (m^2 + 2, m), \text{ 圆 } M \text{ 的半径 } r = \sqrt{(m^2 + 2)^2 + m^2}$$

$$\text{由于圆 } M \text{ 过点 } P(4, -2), \text{ 因此 } \overrightarrow{AP} \cdot \overrightarrow{BP} = 0, \text{ 故 } (x_1 - 4)(x_2 - 4) + (y_1 + 2)(y_2 + 2) = 0$$

$$\text{即 } x_1 x_2 - 4(x_1 + x_2) + y_1 y_2 + 2(y_1 + y_2) + 20 = 0$$

$$\text{由 (1) 可得 } y_1 y_2 = -4, x_1 x_2 = 4,$$

$$\text{所以 } 2m^2 - m - 1 = 0, \text{ 解得 } m = 1 \text{ 或 } m = -\frac{1}{2}$$

当 $m = 1$ 时, 直线 l 的方程为 $x - y - 2 = 0$, 圆心 M 的坐标为 $(3, 1)$, 圆 M 的半径为 $\sqrt{10}$, 圆 M

$$\text{的方程为 } (x - 3)^2 + (y - 1)^2 = 10$$

当 $m = -\frac{1}{2}$ 时, 直线 l 的方程为 $2x + y - 4 = 0$, 圆心 M 的坐标为 $(\frac{9}{4}, -\frac{1}{2})$, 圆 M 的半径为



$\frac{\sqrt{85}}{4}$, 圆 M 的方程为 $\left(x - \frac{9}{4}\right)^2 + \left(y + \frac{1}{2}\right)^2 = \frac{85}{16}$

20.

(1) X 的分布列为

X	200	300	500
P	$\frac{1}{5}$	$\frac{2}{5}$	$\frac{2}{5}$

(2) 当 n 为 300 瓶时, y 的数学期望达到最大值。

【解析】

(1) 由题意知, X 所有的可能取值为 200, 300, 500, 由表格数据知

$$P(X = 200) = \frac{2+16}{90} = 0.2$$

$$P(X = 300) = \frac{36}{90} = 0.4$$

$$P(X = 500) = \frac{25+7+4}{90} = 0.4$$

因此 X 的分布列为

X	200	300	500
P	0.2	0.4	0.4

(2) 由题意知, 这种酸奶一天的需求量至多为 500, 至少为 200, 因此只需考虑 $200 \leq n \leq 500$

当 $300 \leq n \leq 500$ 时,

若最高气温不低于 25, 则 $Y = 6n - 4n = 2n$

若最高气温位于区间 $[20, 25)$, 则 $Y = 6 \times 300 + 2(n - 300) - 4n = 1200 - 2n$;

若最高气温低于 20, 则 $Y = 6 \times 200 + 2(n - 200) - 4n = 800 - 2n$;

因此 $EY = 2n \times 0.4 + (1200 - 2n) \times 0.4 + (800 - 2n) \times 0.2 = 640 - 0.4n$

当 $200 \leq n < 300$ 时,

若最高气温不低于 20, 则 $Y = 6n - 4n = 2n$;



若最高气温低于 20, 则 $Y=6 \times 200+2(n-200)-4n=800-2n$;

因此 $EY=2n \times (0.4+0.4)+(800-2n) \times 0.2=160+1.2n$

所以 $n=300$ 时, Y 的数学期望达到最大值, 最大值为 520 元。

21.

(1) 见解析

(2) $m_{\min} = 1$

【解析】

(1) $f(x)$ 的定义域为 $(0, +\infty)$.

①若 $a \leq 0$, 因为 $f\left(\frac{1}{2}\right) = -\frac{1}{2} + a \ln 2 < 0$, 所以不满足题意;

②若 $a > 0$, 由 $f'(x) = 1 - \frac{a}{x} = \frac{x-a}{x}$ 知, 当 $x \in (0, a)$ 时, $f'(x) < 0$; 当 $x \in (a, +\infty)$ 时,

$f'(x) > 0$, 所以 $f(x)$ 在 $(0, a)$ 单调递减, 在 $(a, +\infty)$ 单调递增, 故 $x=a$ 是 $f(x)$ 在 $x \in (0, +\infty)$ 的唯一最小值点.

由于 $f(1) = 0$, 所以当且仅当 $a=1$ 时, $f(x) \geq 0$.

故 $a=1$

(2) 由 (1) 知当 $x \in (1, +\infty)$ 时, $x-1-\ln x > 0$

令 $x=1+\frac{1}{2^n}$ 得 $\ln\left(1+\frac{1}{2^n}\right) < \frac{1}{2^n}$, 从而

$$\ln\left(1+\frac{1}{2}\right) + \ln\left(1+\frac{1}{2^2}\right) + \dots + \ln\left(1+\frac{1}{2^n}\right) < \frac{1}{2} + \frac{1}{2^2} + \dots + \frac{1}{2^n} = 1 - \frac{1}{2^n} < 1$$

$$\text{故 } \left(1+\frac{1}{2}\right)\left(1+\frac{1}{2^2}\right)\dots\left(1+\frac{1}{2^n}\right) < e$$

而 $\left(1+\frac{1}{2}\right)\left(1+\frac{1}{2^2}\right)\left(1+\frac{1}{2^3}\right) > 2$, 所以 m 的最小值为 3.

22.



(1) C 的普通方程为 $x^2 - y^2 = 4$.

(2) l_3 与 C 的交点 M 的极径为 $\sqrt{5}$.

【解析】(1) 消去参数 t 得 l_1 的普通方程 $l_1: y = k(x-2)$; 消去参数 m 得 l_2 的普通方程

$$l_2: y = \frac{1}{k}(x+2)$$

设 $P(x, y)$, 由题设得 $\begin{cases} y = k(x-2) \\ y = \frac{1}{k}(x+2) \end{cases}$, 消去 k 得 $x^2 - y^2 = 4 (y \neq 0)$.

所以 C 的普通方程为 $x^2 - y^2 = 4 (y \neq 0)$

(2) C 的极坐标方程为 $r^2(\cos^2 q - \sin^2 q) = 4 (0 < q < 2\pi, q \neq \frac{\pi}{2})$

联立 $\begin{cases} r^2(\cos^2 q - \sin^2 q) = 4 \\ r(\cos q + \sin q) - \sqrt{2} = 0 \end{cases}$ 得 $\cos q - \sin q = 2(\cos q + \sin q)$.

故 $\tan q = -\frac{1}{3}$, 从而 $\cos^2 q = \frac{9}{10}, \sin^2 q = \frac{1}{10}$

代入 $r^2(\cos^2 q - \sin^2 q) = 4$ 得 $r^2 = 5$, 所以交点 M 的极径为 $\sqrt{5}$.

23.

(1) $f(x) \geq 1$ 的解集为 $[1, +\infty)$.

(2) m 的取值范围为 $(-\infty, \frac{5}{4}]$.

【解析】

$$(1) f(x) = \begin{cases} -3, & x < -1 \\ 2x-1, & -1 \leq x \leq 2 \\ 3, & x > 2 \end{cases}$$

当 $x < -1$ 时, $f(x) \geq 1$ 无解;

当 $-1 \leq x \leq 2$ 时, 由 $f(x) \geq 1$ 得, $2x-1 \geq 1$, 解得 $1 \leq x \leq 2$

当 $x > 2$ 时, 由 $f(x) \geq 1$ 解得 $x > 2$.



所以 $f(x) \geq 1$ 的解集为 $\{x|x \geq 1\}$.

(2) 由 $f(x) \geq x^2 - x + m$ 得 $m \leq |x+1| - |x-2| - x^2 + x$, 而

$$\begin{aligned} |x+1| - |x-2| - x^2 + x &\leq |x| + 1 + |x| - 2 - x^2 + |x| \\ &= -\left(|x| - \frac{3}{2}\right)^2 + \frac{5}{4} \\ &\leq \frac{5}{4} \end{aligned}$$

且当 $x = \frac{3}{2}$ 时, $|x+1| - |x-2| - x^2 + x = \frac{5}{4}$.

故 m 的取值范围为 $\left(-\infty, \frac{5}{4}\right]$

